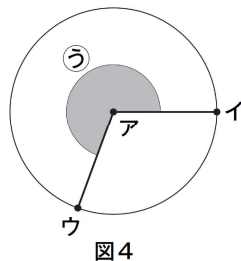


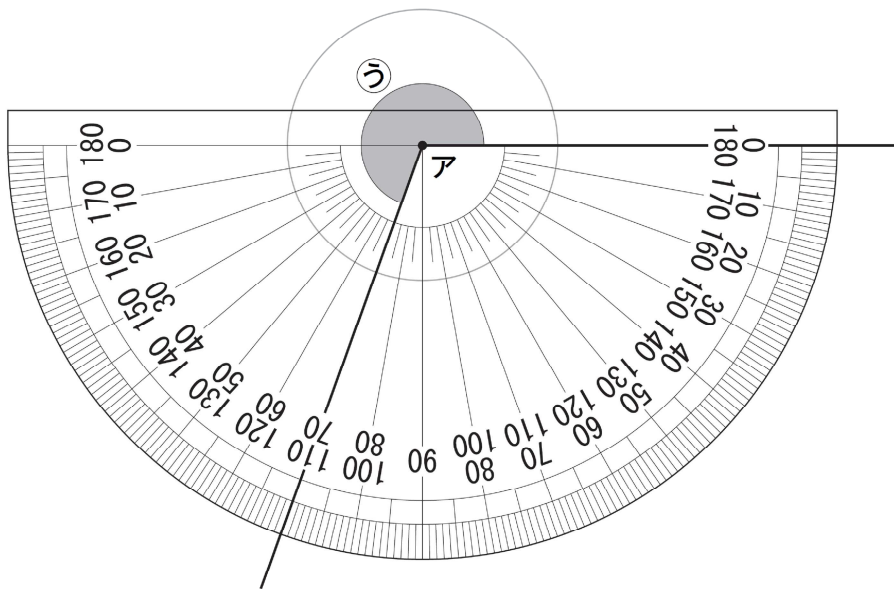
年	組	番	氏名
---	---	---	----

平成30年度 A5 (2)

5 図4のときの角を、角 $\text{ウ}$ とします。



(2) 左ページの図4のときの角 $\text{ウ}$ の角度を、分度器を使ってはかります。角 $\text{ウ}$ の角度は何度ですか。答えを書きましょう。



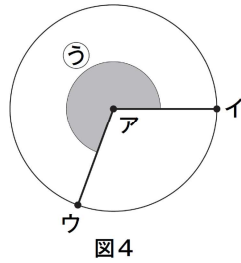
解答らん

度
---

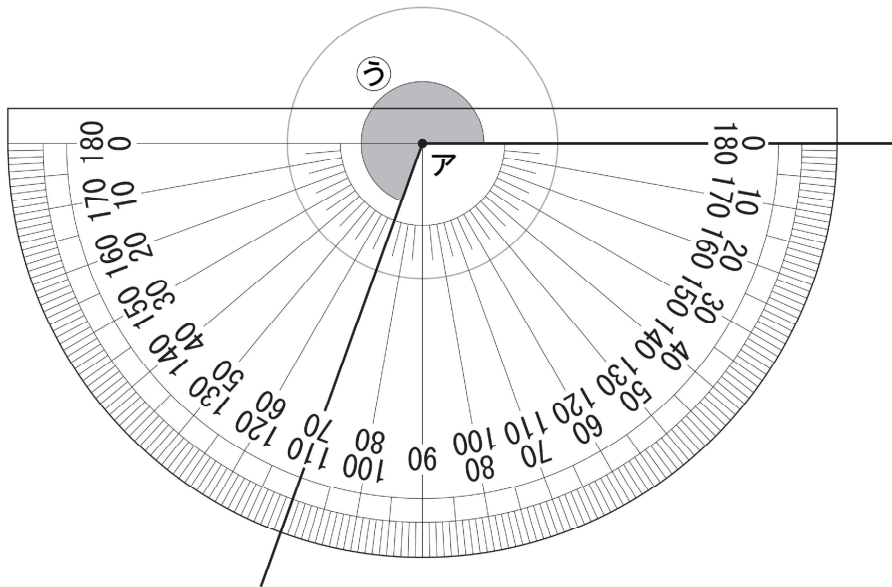
年	組	番	氏名
---	---	---	----

平成30年度 A **5** (2)

**5** 図4のときの角を、角うとします。



(2) 左ページの図4のときの角うの角度を、分度器を使ってはかります。角うの角度は何度ですか。答えを書きましょう。



解答らん

250	度
-----	---